



Herhaling 3.1 Klimaten wereldwijd

1 Gebruik bron A.

a Koppel de juiste klimaten aan het juiste getal.

gematigd zeeklimaat ____

landklimaat ____

poolklimaat ____

savanneklimaat ____

steppeklimaat ____

toendraklimaat ____

tropisch regenwoudklimaat ____

woestijnklimaat ____

b Zijn de volgende uitspraken juist of onjuist?

- Het klimaat met nummer 2 is warmer dan het klimaat met nummer 5. *juist / onjuist*

- Het klimaat met nummer 2 ligt dicht bij de evenaar dan klimaat met nummer 4. *juist / onjuist*

- Het klimaat met nummer 3 is kouder dan het klimaat met nummer 5. *juist / onjuist*

- Het klimaat met nummer 6 is warmer dan het klimaat met nummer 7. *juist / onjuist*

c Kies de juiste uitspraken.

- ☐ In Spanje heerst elke dag hetzelfde klimaat.
- ☐ Op sommige dagen heb je in Spanje hetzelfde klimaat als in Nederland.
- ☐ 'Wij gaan op vakantie naar Italië want daar is het altijd mooi weer.'
- ☐ 'Toen mijn oma van vakantie terugkwam uit Spanje, zei ze dat het weer erg was tegengevallen.'

d Welke klimaten zijn droog en welke vochtig? Noteer de antwoorden in de tabel. Kies uit:

gematigd zeeklimaat – landklimaat – poolklimaat – tropisch regenwoudklimaat – woestijnklimaat.

Droog	Vochtig

e Welke begroeiing vind je in welk klimaat? Koppel de klimaten met de juiste begroeiing in de tabel.

gematigd zeeklimaat	•	• bomen en struiken
landklimaat	•	• grassen en struiken
savanneklimaat	•	• loofbos
steppeklimaat	•	• naaldbos
tropisch regenwoudklimaat	•	• veel en hoge bomen





Verdieping 3.1 ☆ Klimaten wereldwijd

1

Gebruik de kaart en klimaatgrafieken en de Grote Bosatlas.

BOS

- a Koppel de klimaatgrafieken 1 tot en met 7 uit bron A aan de plaats op de kaart. Zet de getallen 1 tot en met 7 bij de juiste stip op de kaart (bron B).
- b Noteer de namen van de klimaten achter de juiste nummers.

1 _____

2 _____

3 _____

4 _____

5 _____

6 _____

7 _____

- c Gebruik GB 230. Gematigde klimaten kunnen verschillen van elkaar. Zo zijn er gematigde klimaten waar het hele jaar ongeveer evenveel neerslag valt en klimaten waar de neerslag vooral in de winter valt. Welke gematigde klimaten heersen in de volgende plaatsen?

- Amsterdam *mediterraan klimaat / chinaklimaat / hele jaar neerslag*
- Barcelona *mediterraan klimaat / chinaklimaat / hele jaar neerslag*
- De Bilt *mediterraan klimaat / chinaklimaat / hele jaar neerslag*
- Florence *mediterraan klimaat / chinaklimaat / hele jaar neerslag*
- Guangzhou *mediterraan klimaat / chinaklimaat / hele jaar neerslag*
- Rome *mediterraan klimaat / chinaklimaat / hele jaar neerslag*
- Shanghai *mediterraan klimaat / chinaklimaat / hele jaar neerslag*
- Tunis *mediterraan klimaat / chinaklimaat / hele jaar neerslag*

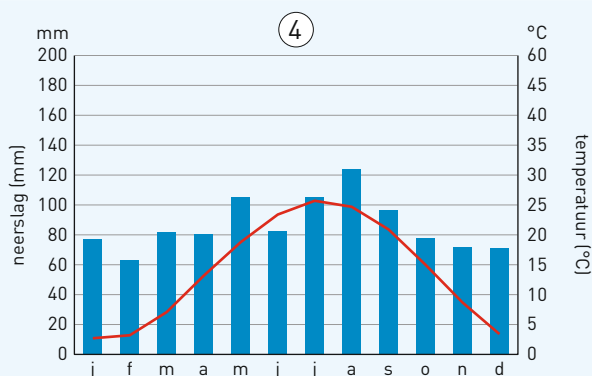
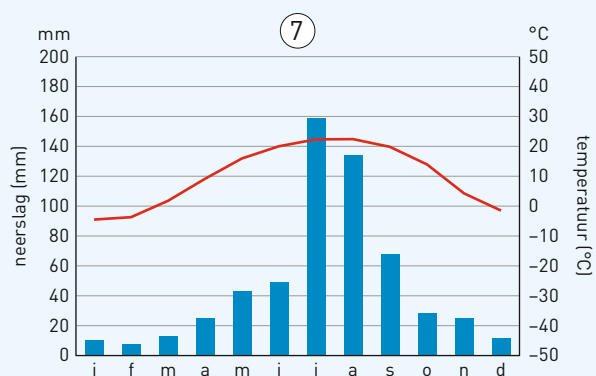
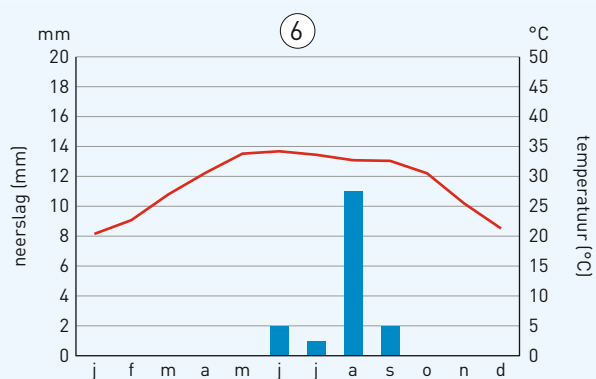
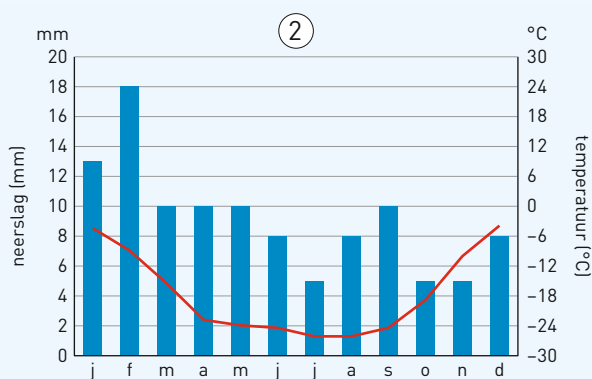
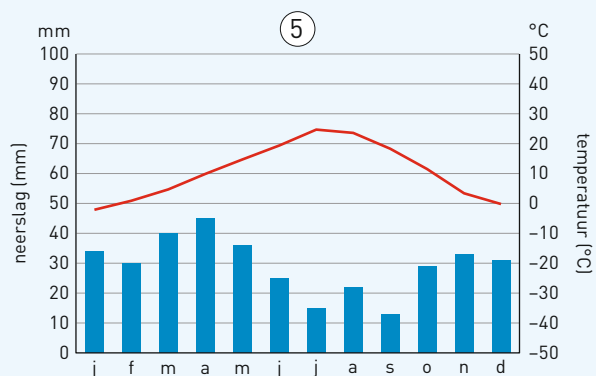
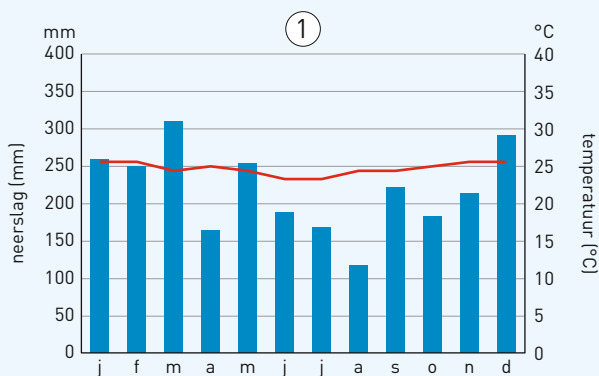
- d Gebruik GB 230. Madrid en New York liggen op ongeveer dezelfde breedtegraad. Wat is juist?

- Madrid heeft een mediterraan klimaat met een *droge / natte* zomer.
- New York heeft een klimaat vergelijkbaar met *Nederland / Portugal*.
- In New York is de kans op sneeuw in de winter *wel / niet* aanwezig.
- In Madrid is de kans op sneeuw in de winter *wel / niet* aanwezig.

- e New York en Madrid liggen op dezelfde breedtegraad. Toch hebben ze een heel verschillend klimaat. Leg uit hoe dat komt.

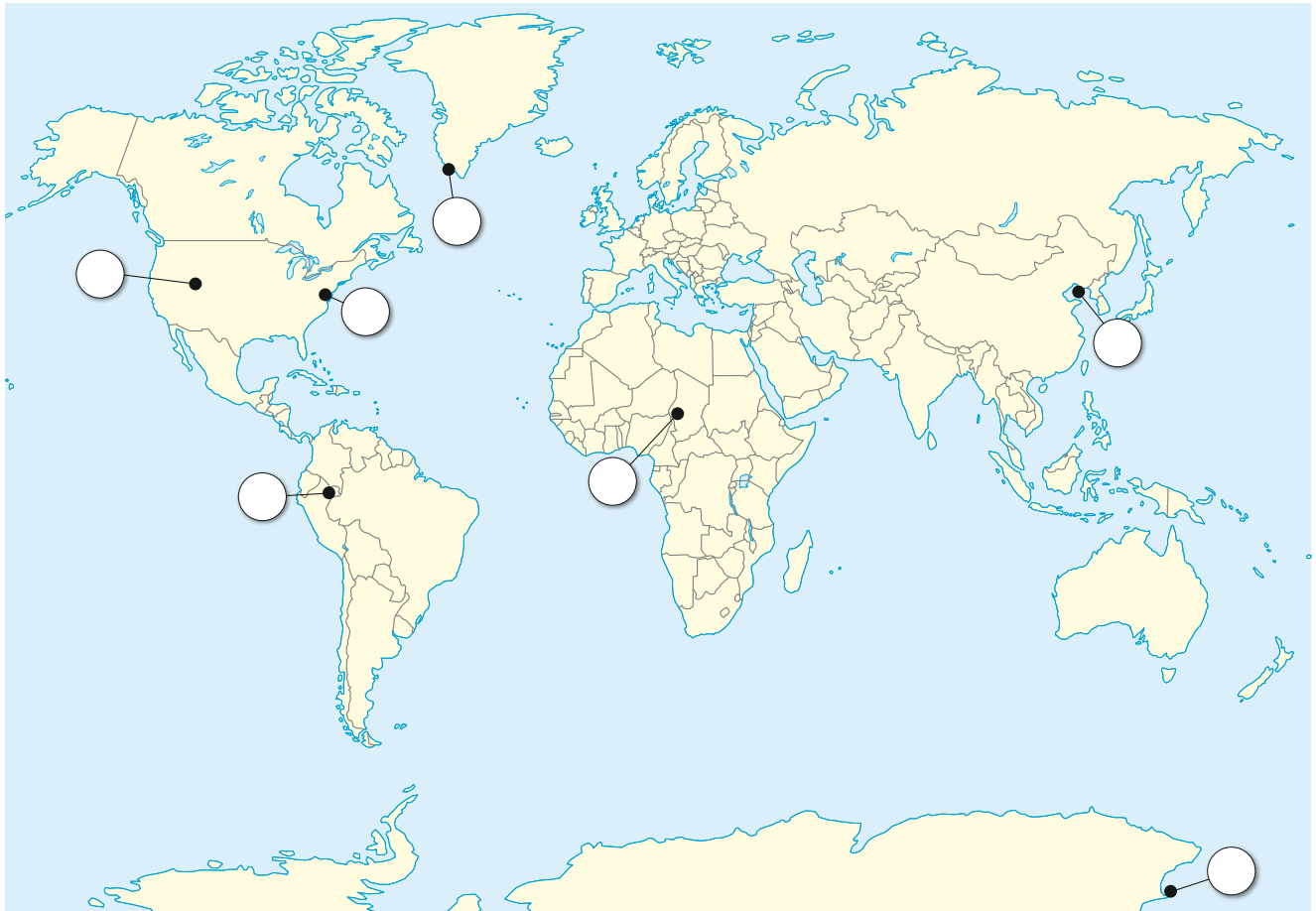


Verdieping 3.1 ☆ Klimaten wereldwijd - vervolg





Verdieping 3.1 ☆ Klimaten wereldwijd - vervolg



BRON B Wereldkaart