

Pm3ak H3 grenzen

Opleiding: Samengestelde toetsen

Aantal vragen: 41

In totaal zijn 54 punten voor deze toets te behalen, 27 punten zijn nodig om voor de toets te slagen.

- 1** Inwoners van Europese landen spreken vaak dezelfde taal.
1 pt. Meestal hebben ze ook dezelfde godsdienst en gewoonten. Welke zin beschrijft dit het best?
- a. De inwoners wonen in een soeverein land.
 - b. Veel inwoners hebben dezelfde identiteit.
 - c. Vele landgenoten hebben dezelfde etniciteit.
 - d. Ze wonen economisch in hetzelfde land.

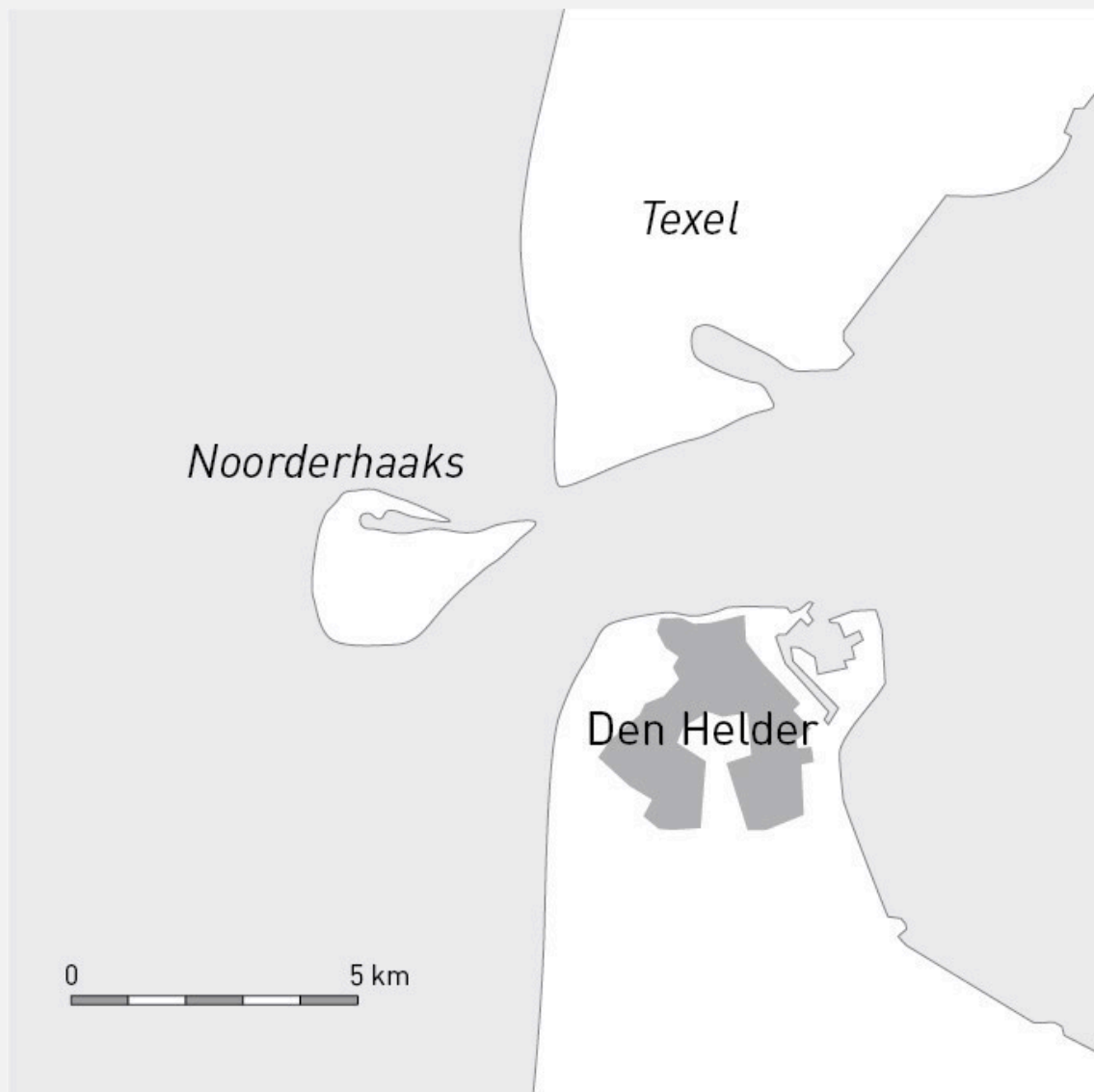
- 2** Lees de volgende uitspraken. Kies per zin of ze juist of onjuist zijn.
2 pt.

		Juist	Onjuist
		A	B
Nederland heeft kunstmatige en natuurlijke grenzen.	1	<input type="radio"/>	<input type="radio"/>
Door het lokalisme kunnen nieuwe bewoners zich buitengesloten voelen.	2	<input type="radio"/>	<input type="radio"/>
In Nederland hebben alle mensen dezelfde cultuur en mentaliteit.	3	<input type="radio"/>	<input type="radio"/>
Nederland heeft 12 provincies die elk een eigen identiteit hebben.	4	<input type="radio"/>	<input type="radio"/>

- 3** Welk voorbeeld hoort bij de afspraken die in het Verdrag van Schengen zijn gemaakt?
1 pt.
- a. Als je van Nederland naar Noorwegen reist, kun je overal met de euro betalen.
 - b. In het Verenigd Koninkrijk betaal je met Britse ponden, omdat dit geen Schengenland is.
 - c. Polen werken altijd illegaal in Nederland, omdat Polen geen Schengenland is.
 - d. Zwitserland is geen EU-land, toch kun je zonder pascontrole de grens passeren.

- 4** Verschillende (deel)republieken van Rusland willen zelfstandig worden. Welk begrip past hier bij?
1 pt.
- a. culturele verschillen
 - b. russificatie
 - c. separatisme
 - d. vreemdelingenhaat

Bron 1



Figuur 3

5

1 pt.

Gebruik bij deze vraag bron 1 op pagina 3

Bekijk figuur 3.

Het eiland Noorderhaaks ligt in de buurt van Den Helder en het eiland Texel. Welke uitspraak over dit eiland is juist?

- a. Het eiland Noorderhaaks vormt een harde en kunstmatige grens tussen Nederland en het Verenigd Koninkrijk.
- b. Nederland mag geen windmolens bouwen op Noorderhaaks omdat het buiten de territoriale wateren van Nederland ligt.
- c. Nederland mag naar olie en gas boren op en rond Noorderhaaks. Het eiland ligt binnen de territoriale wateren van Nederland.
- d. Omdat het eiland Noorderhaaks onbewoond is, hoort het niet bij het continentaal plat van Nederland.

6

1 pt.

Vrienden van de Oostvlietpolder bij Leiden plaatsten protestborden in het weiland langs de Europaweg. Ze hebben bezwaarschriften ingediend en willen de polder groen houden.

Welk begrip past hier het best bij?

- a. bestemmingsplan
- b. inspraak
- c. euregio
- d. lokalisme

Bron 2



Figuur 4

7

1 pt.

Gebruik bij deze vraag bron 2 op pagina 5

Bekijk in figuur 4 het lichtgrijs gemaakte deel van Oekraïne.

Welke tekst past het beste bij deze kaart?

- a. Rusland heeft veel problemen met het separatisme van de republieken.
- b. De vreemdelingenhaat in het oosten van Oekraïne zorgt voor veel problemen.
- c. De etnische minderheden in het oosten van Oekraïne willen een eigen staat.
- d. De opstandelingen in het oosten van Oekraïne willen een nauwere band met Rusland.

8

2 pt.

Op het Russische Frans-Jozefland liggen honderdduizenden olievaten uit de tijd van de Sovjet-Unie. Toen werd er op deze eilanden olie gewonnen, maar tegenwoordig is het een grote vuilnisbelt.

Hoe kan Rusland dit milieuprobleem het beste oplossen?

- a. Samen met ngo's als Greenpeace afspraken maken over grondstofwinning en visserij.
- b. Met de landen van het Arctic Council of Poolraad afspraken maken over het opruimen van de troep.
- c. Door het Earth Charter te tekenen beheren ze de schatten van de aarde goed.
- d. Door met oliemaatschappijen afspraken te maken over het boren naar olie in de Noordelijke IJszee.

9

2 pt.

Almaz is als vluchteling uit Eritrea (Afrika) naar Nederland gekomen.

Welke uitspraak is juist?

- a. Door het Verdrag van Schengen kon Almaz nadat ze Italië binnen was gekomen, makkelijk doorreizen naar Nederland.
- b. Als vluchteling krijg je meteen de Nederlandse nationaliteit. Almaz mag meedoen aan de verkiezingen.
- c. Omdat ze christen is, heeft Almaz dezelfde identiteit als haar Nederlandse burens.
- d. Door de Randstedelijke mentaliteit voelde Almaz zich niet buitengesloten toen ze in het westen van Nederland ging wonen.

10 Nederland maakt afspraken over het gebruik van de spoorlijn Luik-Maastricht-Aken met België.

2 pt.

Welke uitspraak past het beste bij deze afspraken?

- a. De spoorlijn passeert de taalgrens en de Grensmaas. De gemeenten werken samen in de Euregio over het gebruik van deze spoorlijn.
- b. Er komen problemen omdat de spoorlijn de rivier de Maas moet passeren. Dat is een harde, natuurlijke grens met België.
- c. Deze spoorlijn wordt de IJzeren Rijn genoemd. Omdat het door Belgische enclaves loopt zijn er geen problemen over het traject.
- d. De spoorlijn loopt door drie Belgische gewesten en taalgemeenschappen. Het overleg verloopt daardoor moeizaam.

11 Inwoners van Europese landen spreken vaak dezelfde taal. Meestal hebben ze ook dezelfde godsdienst en gewoonten.

1 pt.

Welke zin beschrijft dit het best?

- a. Ze wonen economisch in hetzelfde land.
- b. De inwoners wonen in een soeverein land.
- c. Veel inwoners hebben dezelfde identiteit.
- d. Vele landgenoten hebben dezelfde etniciteit.

12 Lees de volgende uitspraken. Kies per zin of ze juist of onjuist zijn.

2 pt.

		Juist	Onjuist
		A	B
Nederland is een soeverein land.	1	<input type="radio"/>	<input type="radio"/>
In Nederland hebben alle mensen dezelfde cultuur en identiteit.	2	<input type="radio"/>	<input type="radio"/>
Nederland heeft 12 provincies die elk een eenheidsstaat zijn.	3	<input type="radio"/>	<input type="radio"/>
Door het lokalisme kunnen nieuwe bewoners zich buitengesloten voelen.	4	<input type="radio"/>	<input type="radio"/>

13 Welk voorbeeld hoort bij de afspraken die in het Verdrag van Schengen zijn gemaakt?

1 pt.

- a. Als je van Nederland naar Noorwegen reist, kun je overal met de euro betalen.
- b. In het Verenigd Koninkrijk betaal je met Britse ponden, omdat dit geen Schengenland is.
- c. Zwitserland is geen EU-land, toch kun je zonder pascontrole de grens passeren.
- d. Polen werken altijd illegaal in Nederland, omdat Polen geen Schengenland is.

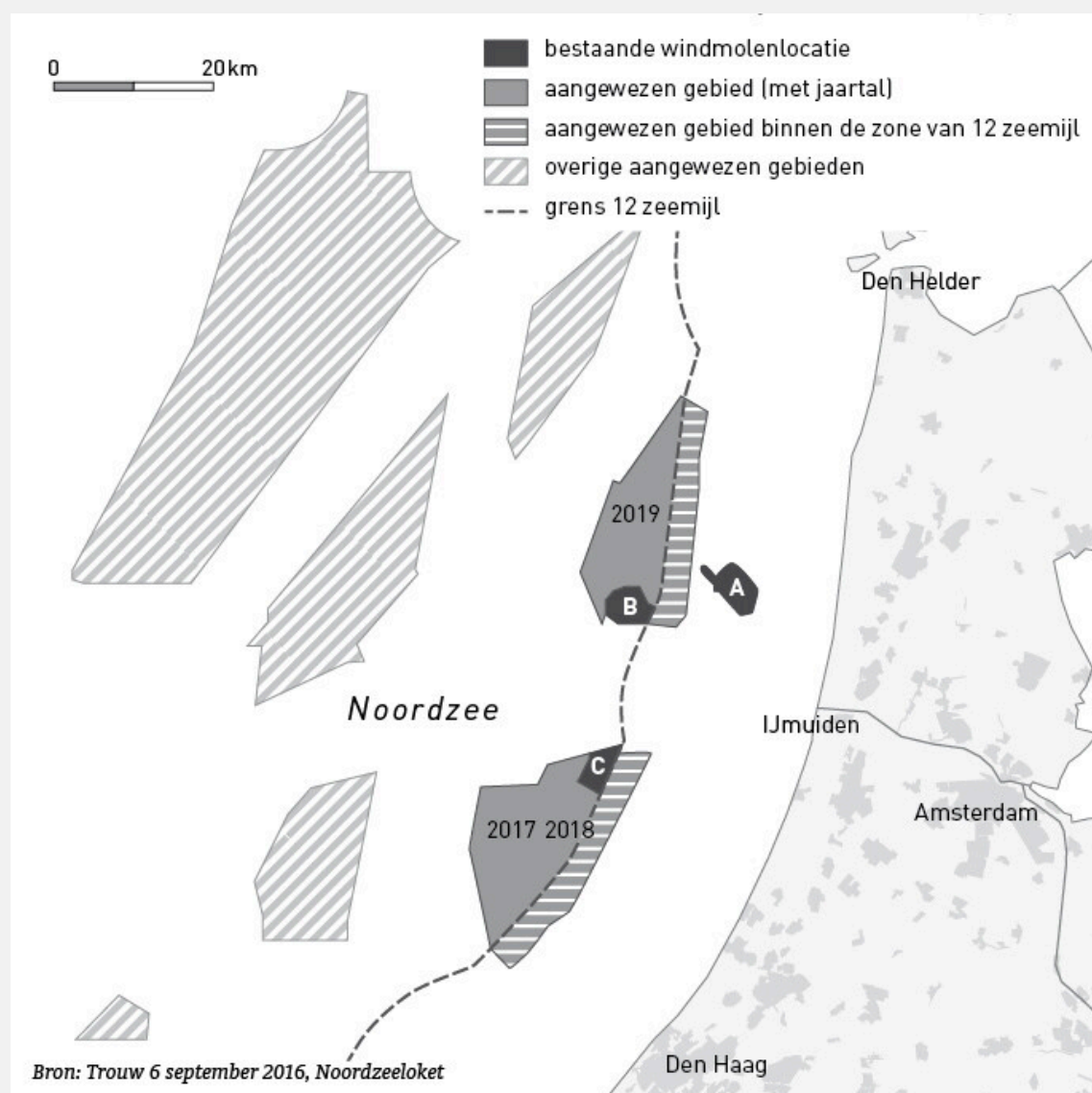
14 Verschillende (deel)republieken van Rusland willen zelfstandig worden.

1 pt.

Welk begrip past hier bij?

- a. culturele verschillen
- b. russificatie
- c. separatisme
- d. vreemdelingenhaat

Bron 3



Figuur 3

15

1 pt.

Gebruik bij deze vraag bron 3 op pagina 9

Bekijk figuur 3.

Waarom mag Nederland binnen de 12-zeemijlzone windparken aanleggen voor de kust van Noord-Holland?

- a.** De 12-mijlszone vormt een harde en kunstmatige grens tussen Nederland en het Verenigd Koninkrijk.
- b.** De Noordzee vormt de natuurlijke landsgrens tussen Nederland en het Verenigd Koninkrijk.
- c.** Dit deel van de Noordzee ligt binnen de territoriale wateren van Nederland.
- d.** Omdat de inwoners van het Verenigd Koninkrijk na inspraak het bestemmingsplan hebben aangepast.

Bron 4

Nieuwbouw Mook

Wethouder Wienhoven zegt: 'Er wordt al twintig jaar gepraat over het centrum van Mook. Eerdere plannen gingen niet door. Dit is een goed project met een zorgvoorziening, alsmede woningen voor ouderen en voor gezinnen. Het is hoog tijd dat Mook vernieuwt.'

Tegenstander Stan Brinkhoff is het hier niet mee eens: 'Dit plan is veel te kolossaal en past niet in de dorpse omgeving. Er komen parkeerproblemen. Een zorgcentrum kan beter aan de Cuijksesteeg. De burgers zijn buitenspel gezet.'

Vrij naar: *www.degelderlander.nl*, 21 januari 2017

16

1 pt.

Gebruik bij deze vraag bron 4 op pagina 11

Lees de tekst.

Hoe kunnen de burgers meepraten en meebeslissen? Welk begrip past hier het beste bij?

- a. bestemmingsplan
- b. lokalisme
- c. inspraak
- d. Euregio

Bron 5



Figuur 4

17

1 pt.

Gebruik bij deze vraag bron 5 op pagina 12

Bekijk in figuur 4 het donker gemaakte deel van Oekraïne.

Welke tekst past het beste bij deze kaart?

- a. Rusland heeft veel problemen met het separatisme van de republieken.
- b. De opstandelingen in het oosten van Oekraïne willen een nauwere band met Rusland.
- c. De vreemdelingenhaat in het oosten van Oekraïne zorgt voor veel problemen.
- d. De etnische minderheden in het oosten van Oekraïne willen een eigen staat.

18

2 pt.

Op het Russische Frans-Jozefland liggen honderdduizenden olievaten uit de tijd van de Sovjet-Unie. Toen werd er op deze eilanden olie gewonnen, maar tegenwoordig is het een grote vuilnisbelt.

Hoe kan Rusland dit milieuprobleem het beste oplossen?

- a. Door samen met ngo's als Greenpeace afspraken te maken over grondstofwinning en visserij.
- b. Door het Earth Charter te tekenen beheren ze de schatten van de aarde goed.
- c. Door samen met de landen van het Arctic Council of Poolraad afspraken te maken over het opruimen van de troep.
- d. Door met oliemaatschappijen afspraken te maken over het boren naar olie in de Noordelijke IJszee.

19

2 pt.

Almaz is als vluchteling uit Eritrea (Afrika) naar Nederland gekomen.

Welke uitspraak is juist?

- a. Door het Verdrag van Schengen kon Almaz nadat ze Italië binnen was gekomen, makkelijk doorreizen naar Nederland.
- b. Als vluchteling krijg je meteen de Nederlandse nationaliteit. Almaz mag meedoen aan de verkiezingen.
- c. Omdat ze christen is, heeft Almaz dezelfde identiteit als haar Nederlandse burens.
- d. Door de Randstedelijke mentaliteit voelde Almaz zich niet buitengesloten toen ze in het westen van Nederland ging wonen.

Bron 6

In de jaren '80 verschoof de territoriale zone van 3 naar 12 zeemijlen uit de kust ten noorden van de Eemsmonding bij Groningen. Daardoor ontstond er verschil van over de loop van de staatsgrens tussen Nederland en Duitsland. De landen hebben nu afspraken gemaakt over hun bevoegdheden in de zee. Daardoor moet het voortaan duidelijk zijn in welk land ondernemers vergunningen voor hun activiteiten moeten aanvragen.

Vrij naar: www.rijksoverheid.nl

20

2 pt.

Gebruik bij deze vraag bron 6 op pagina 14

Lees de tekst.

Welke uitspraak past het beste bij deze afspraken?

- a. De rivier de Eems is een harde en natuurlijke grens tussen Nederland en Duitsland.
- b. Doordat de gemeenten in de Euregio van Noord-Nederland en Noord-Duitsland goed samenwerken zijn de problemen opgelost.
- c. Deze afspraken lijken op de afspraken die Nederland met België heeft gemaakt over de Westerschelde en de Zeeschelde.
- d. Ondernemers uit Nederland en Duitsland mogen door het Verdrag van Schengen nu overal in de Waddenzee en de Noordzee naar olie en gas boren.

21

2 pt.

Welke twee zinnen maken duidelijk dat verschillende etnische groepen het moeilijk hebben in Rusland?

- a. Op school leren de leerlingen Russisch, maar thuis spreken ze een andere taal. Ze kunnen moeilijk volgens hun eigen cultuur blijven leven.
- b. Er zijn veel verschillende etnische groepen die allemaal hun eigen cultuur hebben.
- c. De Russische Federatie is verdeeld in ongeveer 80 deelgebieden, elk met een eigen cultuur.
- d. Mensen uit etnische groepen hebben veel minder geld te besteden dan de rijke Russische toplaag.

22 Waarvan is de Russische economie sterk afhankelijk?

1 pt.

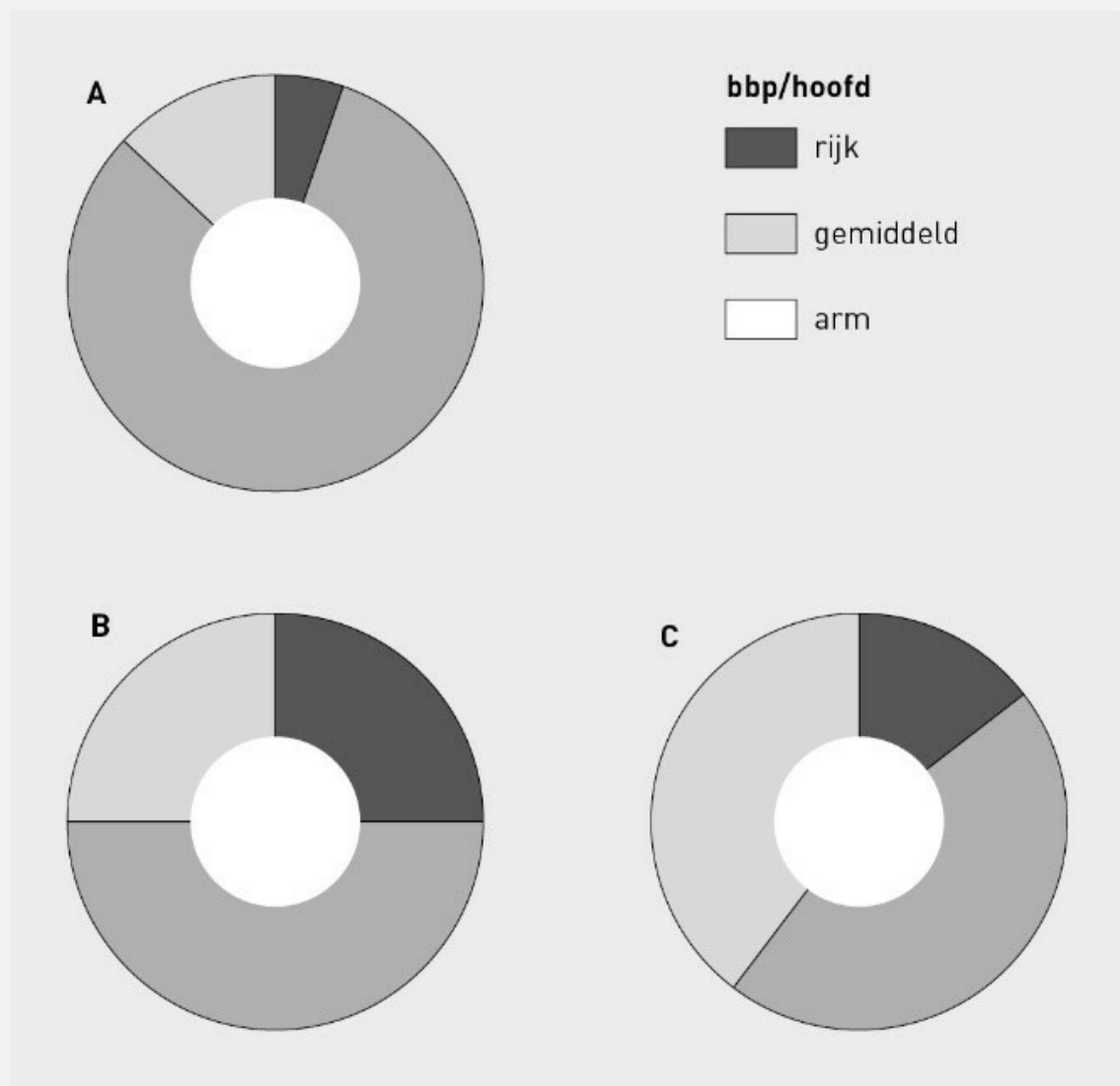
- a. van de import van delfstoffen als koper, goud en zink uit Afrika
- b. van de export van grondstoffen als aardolie, aardgas en steenkool
- c. van pijpleidingen uit West-Europa, waarmee Gazprom aardgas importeert
- d. van enkele Russische megabedrijven die grondstoffen en delfstoffen importeren

23 Welke omschrijving hoort bij de Russische exclusieve economische zone?

1 pt.

- a. het deel van de Noordelijke IJszee langs de Russische kust met een breedte van twaalf zeemijl
- b. het recht om op het continentale plat van de Noordelijke IJszee te mogen vissen
- c. het deel van de Noordelijke IJszee waar Rusland mag vissen en delfstoffen mag winnen
- d. het gebied in de buurt van de polen, waar de zon lange tijd niet ondergaat en lange tijd niet opkomt

Bron 7



Figuur 4

24
1 pt.

Gebruik bij deze vraag bron 7 op pagina 16

Bekijk figuur 4 over het bbp/hoofd in 2010.

Welke grafiek hoort bij Rusland?

- a. cirkeldiagram A
- b. cirkeldiagram B
- c. cirkeldiagram C

25 In de nieuwste Grote Bosatlas is de grens tussen Oekraïne en Rusland rond het schiereiland de Krim met een rode streepjeslijn getekend in plaats van als een doorgetrokken grenslijn.
1 pt.

Waarom is het voor veel inwoners van de Krim logisch dat het schiereiland bij Rusland hoort?

- a. Er zitten veel grondstoffen in de bodem, de Russen kunnen die het beste uit de bodem halen.
- b. Door de russificatie van de Krim spreekt niemand er meer Oekraïens.
- c. Er zijn grote culturele verschillen tussen het christelijke schiereiland de Krim en de islamitische Oekraïne.
- d. Er wonen veel Russen en de russificatie ging er ver zodat veel mensen het Russisch nog beheersen.

26 Rusland was één van de BRIC-landen, maar door de bezetting van de Krim is de Russische economie gekrompen.
1 pt.

Wat is daarvoor de verklaring?

- a. Op de Krim zijn veel lekkages in het olie- en aardgasnetwerk die voor veel vervuiling en onkosten zorgen.
- b. Net als de inwoners van de Krim wilden ook de inwoners van verschillende republieken weer bij Rusland horen. Dit zorgt voor veel onrust.
- c. Er is grote sociale ongelijkheid op de Krim. Het kost de Russische staat veel geld om die ongelijkheid op te heffen.
- d. Veel Westerse landen importeerden als straf minder grondstoffen uit Rusland. Rusland is te afhankelijk van de export van grondstoffen.

27 Waarom is het gebied van de Noordelijke IJszee voor Rusland zo belangrijk?
1 pt.

- a. Er groeien bijzondere planten die alleen hier in het toendragebied voorkomen en die beschermd moeten worden.
- b. Er zit veel olie en gas in de bodem. Dit is belangrijk voor de Russische export.
- c. Het is een belangrijk importgebied van olie en gas. Belangrijke pijpleidingen lopen vanuit West-Europa naar dit gebied.
- d. Het gebied ligt binnen de territoriale wateren van Rusland en er wordt veel kabeljauw gevangen.

28 In het soevereine Letland spreekt 58 procent van de inwoners Lets, 38 procent spreekt Russisch en de rest van de bevolking spreekt een andere taal.

2 pt.

Hoe komt het dat in deze voormalige Sovjetrepubliek zoveel mensen Russisch spreken?

- a. De Letten zijn erg nationalistisch en zijn er trots op dat ze bij de Sovjet-Unie hebben gehoord.
- b. Door het Russische separatisme zijn veel Russen gevlucht naar het buurland Letland.
- c. Door de bevolkingsspreiding en de russificatie in de tijd van de Sovjet-Unie.
- d. Er is veel vreemdelingenhaat in Letland: andere talen dan Lets en Russisch zijn daarom niet toegestaan.

29 De Nederlander Johan Crujff was bondscoach van het voetbalelftal van Catalonië. Catalonië is een regio van Spanje die graag zelfstandig wil worden. Ook de Basken in het noorden van Spanje strijden al jaren voor een zelfstandig land.

2 pt.

Welk begrip past het beste bij het streven van de inwoners van Catalonië en Baskenland?

- a. vreemdelingenhaat
- b. separatisme
- c. culturele verschillen
- d. bevolkingsspreiding

30 Mensen horen op drie manieren bij een land: politiek, economie en cultuur.

Welke manieren horen bij de volgende uitspraken?

'Ik spreek Nederlands, net als iedereen in mijn omgeving. Ik trek veel met andere Nederlanders op.'

(a) **A.** politiek **B.** economie **C.** cultuur (0,5 pt.)

'Elk jaar moet ik belasting betalen. Van de belastingopbrengsten worden bijvoorbeeld uitkeringen betaald.'

(b) **A.** politiek **B.** economie **C.** cultuur (0,5 pt.)

'Als je niet stemt, mag je eigenlijk ook niet zeggen of een land goed of slecht bestuurd wordt door de regering.'

(c) **A.** politiek **B.** economie **C.** cultuur (0,5 pt.)

Bron 8



Figuur 2

31
1 pt.

Gebruik bij deze vraag bron 8 op pagina 19

Bekijk figuur 2.

Welk begrip met uitleg past het beste bij de voetbalfankaart van Nederland?

- a. Nederlandse identiteit: voetbal bepaalt het eigen karakter en de kenmerken van alle Nederlanders.
- b. regionalisme: de inwoners van een gebied vinden hun eigen geschiedenis, cultuur en club belangrijk.
- c. lokalisme: mensen zijn vooral gericht op hun eigen dorp en gemeente.
- d. Randstedelijke mentaliteit: de manier waarop mensen in de Randstad denken en voelen.

32 Lees deze mop: 'Als een Belg dorst heeft, koopt hij samen met iemand anders op een terras iets te drinken. Een Nederlander gaat alleen voor een etalage staan met lekkere dingen: dan komt het water in zijn mond.'

1 pt.

Welke uitspraak past bij deze mop?

- a. Dit is een mop van Belgen over Nederlanders. Het zegt iets over de Belgische en Nederlandse identiteit en mentaliteit.
- b. Dit is een mop van Nederlanders over Belgen. Het zegt iets over de mentaliteit van de Belgen.
- c. Deze mop laat zien dat Belgen de Nederlandse mentaliteit niet zo goed vinden: ze zijn te chauvinistisch.
- d. Nederland en België zijn twee verschillende eenheidsstaten, maar hun identiteit en mentaliteit lijken erg op elkaar.

33 Waarom is het voor België belangrijk dat er goed wordt samengewerkt met Nederland in de Scheldemonde en de Kanaalzone?

1 pt.

- a. Dan kunnen grotere zeeschepen de haven van Vlissingen bereiken.
- b. Dan blijft de haven van Antwerpen goed bereikbaar voor grote zeeschepen.
- c. Dan komt er meer natuur in de Westerschelde door verzanding.
- d. Dan wordt de kans op overstromingen in de haven van Antwerpen kleiner.

34 Door het Verdrag van Schengen kan een inwoner van Terneuzen elke dag op en neer pendelen naar zijn werk in de haven van Antwerpen. Hij leest in de krant dat er in de buurt van zijn huis nieuwe fabrieken worden gebouwd.

1 pt.

In welk plan kan deze inwoner zien wat er gaat gebeuren met het gebied waar hij woont?

.....

Bron 9



Figuur 3

Het huis waar een vermoorde vrouw werd gevonden in Baarle. Het lichaam lag precies op de grens en dat leidde tot problemen tijdens het politieonderzoek.

35

1 pt.

Gebruik bij deze vraag bron 9 op pagina 21

Bekijk figuur 3 en lees het bijschrift. Zijn de uitspraken juist of onjuist?

		Juist	Onjuist
		A	B
De landsgrens tussen Nederland en België is meestal een natuurlijke grens.	1	<input type="radio"/>	<input type="radio"/>
Bij Baarle liggen stukjes België als enclaves in Nederland.	2	<input type="radio"/>	<input type="radio"/>
Euregio's maken het samenwerken van Belgische en Nederlandse politiekorpsen moeilijker.	3	<input type="radio"/>	<input type="radio"/>
De grenzen met onze buurlanden Duitsland en België zijn open grenzen.	4	<input type="radio"/>	<input type="radio"/>

36 Vijftig kilometer vanaf Texel is in de ondiepe bodem van de Noordzee een aardolieveld gevonden.

1 pt.

Waarom zijn de opbrengsten van dit aardolieveld voor Nederland?

- a. Dat heeft te maken met regionalisme: dit deel van de Noordzee hoort bij Texel en de inwoners hebben recht op de opbrengsten.
- b. Dit heeft te maken met het begrip insluiting. Dit deel van de Noordzee hoort bij Nederland. De opbrengsten dus ook.
- c. Dit deel van de Noordzee hoort bij de territoriale wateren van Nederland. Nederland heeft daarom recht op de opbrengsten.
- d. Volgens het Verdrag van Schengen hoort dit deel van de Euregio Noordzee bij Nederland.

37 In Turkije, Syrië en Irak woont het Koerdische volk. Deze mensen willen graag een zelfstandig en onafhankelijk land stichten dat wordt bestuurd door een eigen regering.

1 pt.

Welk begrip past het best bij deze omschrijving?

- a. grenspendel
- b. soeverein
- c. identiteit
- d. gemeenschap

38 Welke zin is juist?

1 pt.

- a. In het project Biopark Terneuzen gaan bedrijven op duurzame en milieuvriendelijke wijze werken door elkaars bijproducten en reststoffen (afval) opnieuw te gebruiken.
- b. Het Biopark Terneuzen ligt in Nederland. Met het vergelijkbare park in België wordt niet samengewerkt.
- c. In het Biopark Terneuzen wordt onvoldoende rekening met het milieu gehouden. Het belangrijkste is dat de industrieën groeien.
- d. In de Kanaalzone proberen Nederlandse en Belgische bedrijven milieuvriendelijk te werken. Ze houden daarbij geen rekening met de bewoners in de grensstreek.

39 In Emmen is de dierentuin verplaatst van het centrum naar de rand van de stad. Niet alle inwoners
1 pt. waren het hiermee eens.

Wie neemt uiteindelijk de beslissing of er in een gemeente een dierentuin wordt verplaatst?

- a. de inwoners van de omliggende wijken
- b. het gemeentebestuur
- c. de inwoners die bezwaar hebben gemaakt en inspraak hebben gekregen
- d. de directeur van de dierentuin

40 Met de Eems-Dollardkwestie wordt een probleem tussen Nederland en Duitsland over het verloop van
2 pt. de Duits-Nederlandse grens in de Eemsmonding bij Groningen bedoeld. In 1960 is het Eems-Dollardverdrag tussen Nederland en Duitsland gesloten. In dit verdrag worden het uitbaggeren van de vaargeul, de markering van de vaarweg en andere scheepvaartzaken geregeld.

Welke afspraken tussen Nederland en België lijkt het meest op de afspraken over de Eemsmonding?

- a. afspraken over de Schelde-Rijnverbinding
- b. afspraken over het gebruik van de Westerschelde
- c. afspraken over de IJzeren Rijn
- d. afspraken over de Grensmaas

41 Nederlandse gemeenten in Drenthe en de Duitse gemeenten net over de grens willen samen de
1 pt. elektriciteit gebruiken die een windmolenpark opwekt. Ze vinden het niet slim om twee aparte windmolenparken te bouwen. Daarom gaan ze met elkaar praten.

Welk begrip past het best bij deze situatie?

- a. Euregio
- b. inspraak
- c. Bio Energy Valley
- d. ruimtelijke ordening